

**KENDRIYA VIDYALAYA SANGATHAN**  
**RANCHI REGION**  
**LEARNING ACHIEVEMENT TEST (LAT)**

SET-A

CLASS-III

F.M.-60 M

TIME-90 min.

Name : \_\_\_\_\_ Roll : \_\_\_\_\_ Sec : \_\_\_\_\_

English (20)	Hindi (20)	EVS (20)	Maths (20)	Total (60)

**Instructions: -**

- 1. All questions are Compulsory. Each question carries 1 mark.**
- 2. Read the questions carefully and tick the (✓) correct option.**

**निर्देश:**

- सभी प्रश्न अनिवार्य हैं। प्रत्येक प्रश्न 1-1 अंक के हैं।
- प्रश्नों को ध्यानपूर्वक पढ़कर सही विकल्प पर निशान(✓) लगाएँ।

**हिन्दी**

(1) नीचे दिए गए कहानी को ध्यानपूर्वक पढ़कर प्रश्नों के उत्तर के सही विकल्प पर सही का निशान (✓) लगाइए।

एक था भालू। हर बार बरसात के मौसम में उसे भीगने से जुकाम हो जाता था। बरसात से बचने के लिए किसी गुफा में रहना उसे पसंद नहीं था। इसलिए उसने बरसात से पहले अपने लिए जंगल में एक सुंदर सा घर बना लिया। भालू रोज़ जानवरों को बुला-बुलाकर अपना घर दिखाता। पहले दिन उसका घर देखने उसके कई भालू दोस्त आए। दूसरे दिन भालू ने गिलहरियों को और तीसरे दिन खरगोशों को बुलाया। वे आकर उसके घर के कोने-कोने में दौड़े। चौथे दिन भालू ने बंदर को बुलाया। बंदर को वह घर इतना पसंद आया कि वह वहीं सो गया।

प्रश्न I. भालू को क्या पसंद नहीं था ?

- (क) गुफा में रहना (ख) घर में रहना (ग) जानवरों को अपने घर बुलाना (घ) दोस्तों के घरों पर रहना

प्रश्न II. भालू ने भीगने से बचने के लिए क्या किया ?

- (क) गुफा में सोया (ख) पेड़ के नीचे सोया (ग) घर बनाया (घ) दोस्तों के घर चला गया

प्रश्न III. भालू को जुकाम क्यों हो जाता था ?

(क) गर्मी लगने से (ख) भीगने से (ग) सर्दी लगने से (घ) हवा बहने से  
प्रश्न IV भालू ने तीसरे दिन किसको बुलाया ?  
(क) गिलहरियों को (ख) अपने भालू दोस्तों को (ग) बंदर को (घ) खरगोशों को

प्रश्न V. भालू के घर में कौन सो गया ?

(क) बंदर (ख) गिलहरी (ग) भालू के दोस्त (घ) खरगो

(2) प्रश्नों के उत्तर के सही विकल्प पर सही का निशान ( ✓ ) लगाइए ।

(I) निम्नलिखित शब्दों में से नाम वाला शब्द (संज्ञा) है :

(क) मोहन (ख) पढ़ना (ग) वह (घ) लम्बा

(II) निम्नलिखित शब्दों में से काम वाला शब्द (क्रिया) है :

(क) खेलना (ख) हिमालय (ग) हमलोग (घ) लाल

(III) घड़ी शब्द का बहुवचन है :

(क) घड़ियाँ (ख) घड़ियाँ (ग) घड़िया (घ) घड़िए

(IV) सिंह का सही स्त्रीलिंग रूप है :

(क) सिही (ख) सिंही (ग) सिंहनी (घ) सिन्ही

(V) सुबह का विलोम शब्द (विपरीत अर्थ वाला शब्द) है :

(क) शाम (ख) दिन (ग) रात (घ) दोपहर

(VI) " जो सेना में काम करे " के लिए एक शब्द होगा :

(क) सिपाही (ख) सैनिक (ग) वीर (घ) कलाकार

(VII) " मुँह में पानी आना " मुहावरा का अर्थ है :

(क) लालच होना (ख) प्रसन्न होना (ग) गुस्सा होना (घ) भड़काना

(3) (I) दिए गए शब्दों में से शब्द का सही रूप है :

(क) ईर्ष्या (ख) इर्ष्या (ग) ईर्षा (घ) इर्षा

(II) " आ \_\_\_ मान " के खाली स्थान में सही वर्ण होगा :

(क) स (ख) श (ग) प (घ) ग

(III) म ग ज ग - वर्णों को सही क्रम में सजाने पर अर्थपूर्ण शब्द बनेगा :

(क) जगमग (ख) गजमग (ग) गमजग (घ) मगजग

## ENGLISH

Read the passage carefully and answer the following questions. (Q.1 , Q. 2 , Q. 3)  
The magic garden was in a school playground. It was very pretty. Sunflowers and roses stood high against the wall. There were also marigold, poppies and pansies. One sunny morning the flowers were talking to the birds. "I love all the children, but I love the dear little ones most of all" said a poppy. "I like them to bring their watering cans and water my thirsty roots.

1. Where was the magic garden?

- a) In a river   b) In a stadium   c) In a playground   d) All of these

2. Who said "I love all the children, but I love the dear little ones most of all"

- a) Rose   b) Marigold   c) sunflower   d) poppy

3. The plural of child is

- a) childs   b) childran   c) children   d) childrun

4. Choose the correct Opposite word of

Day - \_\_\_\_\_

- a) Morning   b) Evening   c) Night   d) All of these

5. Tick the correct contraction of

They are - \_\_\_\_\_

- a) They'ire   b) They're   c) They'are   d) They'ar

6. Look at the picture and choose the right preposition?

A book is \_\_\_\_\_ the table.



- a) Behind   b) On   c) under   d) in

7. "Jenny has short hair."

Tick the correct adjective.



- a) Jenny   b) has   c) short   d) Hair

8. Choose the right homophone to complete the sentence.  
Many trees lose \_\_\_\_\_ leaves in the winter season.  
a) There    b) Their    c) Both a, b    d) None of these

9. One - bus , Many - \_\_\_\_\_?  
a) Buses    b) Buss    c) Busies    d) None.

10. Tick the correctly spelled word.  
a) Sparrow    b) Sperrow    c) Sparoow    d) Spoarrow

11. Tick the right pair of animal with their Young – One.  
a) cow – kitten    b) Pig – piglet    c) Sheep- cub    d) Cat- colt

12. Fill in the blanks with correct collective nouns.

A bunch of \_\_\_\_\_.  
a) flower    b) water    c) paper    d) singer:.

Look at the picture, they are doing some activities in the morning in the park .  
Tick the right option (Q13, Q14)

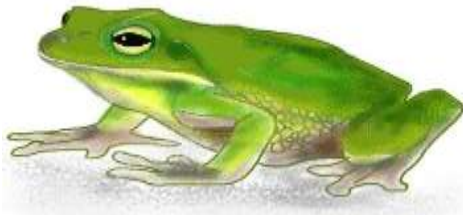


13. The children are \_\_\_\_\_ .  
a) walking    b) talking    c) playing    d) painting

14. There are \_\_\_\_\_ animals in the park.  
a) six    b) five    c) Eight    d) seven

15. Fill in the blank with correct consonant blend.

\_\_\_ \_\_\_ O G



- a) Br      b) Pr      c) Fr      d) Tr

MATHEMATICS

1.)  $3 + 3 + 3 + 3 + 3$

(A)  $5 + 3$

(B)  $5 - 3$

(C)  $5 \times 3$

(D)  $3 \times 3$

2.) Which of the suitable unit to measure the length of a sari?

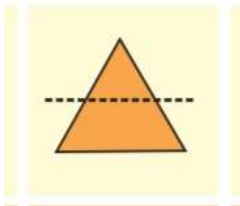
(A) Millimeter (mm)

(B) Centimeter (cm)

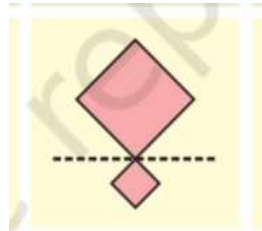
(C) Meter (m)

(D) Kilometer (km)

3.) Which of the one picture is divided into two similar halves along the dotted line?



(A)



(B)



(C)



(D)

4.) Subtract Rs. 36 from Rs. 480

(A) 120

(B) 456

(C) 454

(D) 444

5.) Which one of the following is greatest?

(A) 1 gram

(B) 1 kg

(C) 10 grams

(D) 100 grams

6.) For which these you need a bigger bag?

(A) 1 kg Popcorn

(B) 1 kg tomato

(C) 1 kg lemon

(D) 1 kg Ginger

7.) 6 times 4 is \_\_\_\_\_.

(A) 64

(B) 46

(C) 10

(D) 24

8.) Tick the odd number.

(A) 28

(B) 39

(C) 40

(D) 86

9.) The successor of the greatest number of three digits.

(A) 99

(B) 100

(C) 999

(D) 1000


10.) What will come next ?













- 0                      5                      11                      18                      \_\_\_\_\_  
A) 20                  B) 23                  C) 26                  D) 28

11.) Which of the following day comes last in a year?

- A) Independence day      B) Republic day      C) Children day      D) Teachers day

Look at the given Absent student's chart.

(  = 1 Students)

Class	Absent students
Class I	 
Class II	
Class III	  
Class IV	   
Class V	 

12) The class with the least number of absent students is \_\_\_\_\_.

- A) Class I    B) Class II    C) Class III    D) Class IV

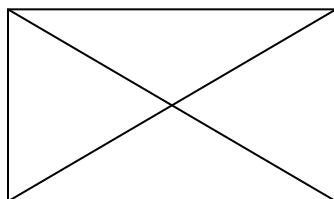
13) The place value of 4 in 425.

- A) 4                  B) 40                  C) 400                  D) 425

14.) A closed figure having 3 sides is called \_\_\_\_\_.

- A) Triangle                  B) Square    C) Rectangle    D) Pentagon

15.) How many total triangles are there in the given figure?



- A) 4                  B) 6                  C) 8                  D) None of these

EVS

Q1) Slow and steady is my pace I always win the race:-

1. Frog    2. Crocodile    3. Rabbit    4. Tortoise

Q2) leaves of this plant can be eaten ?

- A)Tulsi    B) Pudina    C) Betel    D) All these

Q3) Name the drop of water you see on the grass in the morning.

- A)Dew    B) Nail    C) Snow    D) None

Q4) Which is our first school?

- A) Family    B) City    C) Garden    D) Playground

Q5) We cook food here

- A) Kitchen    B) Bedroom    C) Bathroom    D) Living room

Q6) Till the age of four months a baby can have only:

- A) Milk    B) Chapati    C) Dal    D) Rice

Q7) Movement of hand and face expression in dance called:

- A) Mudras    B) Bhavas    C) Both    D) None

Q8) I make holes in the trunk of trees:

- A) Crow    B) Sparrow    C) Both    D)None

Q9) Rainbow has \_\_\_\_\_:

- A) 9 colours    B) 8 colours    C) 7 colours    D) 10 colours

Q10) Sense which help the blind most?

- A) Touch and feel    B)Smell    C)Both    D)None

Q11) what is a PIN?

- A)Postal index number    B) Proper index number  
C)Police index number    D) Personal index number

Q12) Which of the following is not a source of water?

- A) Rain    B) tube-well    C) river    D) Plants

Q13) We wear these clothes in winter

- A) Dhoti-Kurta    B) Lungi-kurta    C) Sweater    D) None of these

Q14) Water vapour is changed into water by:

- A) Evaporation    B) Condensation    C) Watering    D) Cooking

Q15) We get oil from?

- A) Coconut    B) Chilli    C) Tulsi    D) Mango

## Answer Key

Hindi	English	MATHS	EVS
1.	1.C	1.C	1.D
I क	2.D	2.C	2.D
II ग	3.C	3.A	3.A
III ख	4. C	4. D	4. A
IV घ	5. B	5. B	5. A
V क	6. B	6. A	6. A
2.	7. C	7. D	7. A
I क	8. B	8. B	8. D
II क	9. A	9. D	9. C
III ख	10. A	10. C	10. A
IV ग	11. B	11. C	11. A
V क	12. C	12. B	12. D
VI ख	13. C	13. C	13. C
VII क	14. D	14. A	14. B
3	15. C	15. C	15. A
I क			
II क			
III क			