

केन्द्रीय विद्यालय संगठन, मुंबई संभाग
Kendriya Vidyalaya Sangathan, Mumbai Region
Learner Achievement Test/ लर्नर उपलब्धि टेस्ट
Entry Level Class-IV (FOUR)

समय/TIME: 90 मिनट/ MINUTES

पूर्णांक/ MAX.MARKS: 60

निर्देश / INSTRUCTIONS:

1. सभी बहुविकल्पीय प्रश्न हैं। All questions are 'Multiple Choice Questions'.
2. सभी प्रश्न अनिवार्य हैं। All questions are compulsory.
3. केवल एक ही विकल्प सही है। Only one option is correct.
4. केवल सही उत्तर पर (√) का निशान लगाएँ। Only tick mark (√) the correct answer.
5. प्रत्येक प्रश्न 01 अंक का है। Each questions carries 01 mark.

Name of the student: _____ Roll No.: _____

Class: _____ Section: _____ Date: _____

Kendriya Vidyalaya: _____

Signature of the Invigilator: _____

Marks Obtained:

English: _____ Maths _____ Hindi _____ EVS _____ Total: _____
15 15 15 15 60

Name & Signature of the checker: _____

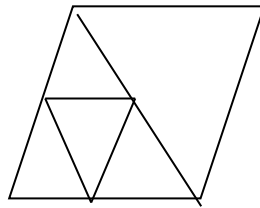
19. How many grams are there in 2 kilograms?

(a) 20

(b) 200

(c) 2000

20. Find the number of triangles in the given figure-

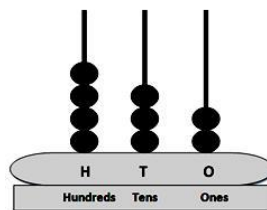


(a) 4

(b) 5

(c) 6

21. Look at the abacus and compute the number.



(a) 342

(b) 243

(c) 432

22. For the change of Rs. 200 how many 20 Rs note will you get?

(a) 15

(b) 10

(c) 20

23. How many months are there in 3 years?

(a) 24

(b) 36

(c) 48

24. Write the correct numeral for the expanded form $400+80+2$

(a) 428

(b) 284

(c) 482

25. The cost of a doll is Rs. 100; the cost of a chocolate is Rs 20. What is the cost of 1 doll and 5 chocolates?

(a) 420

(b) 120

(c) 200

26. Virat Kohli scored 44 runs. How many more runs does he need to complete his half-century?

(a) 6

(b) 4

(c) 5

27. A fan has three blades. How many blades are there in 4 fans?

(a) 9

(b) 12

(c) 16

28. There are 20 shoes. Each child requires one pair of shoes. How many children can wear them?

(a) 10

(b) 20

(c) 11

29. Distance from your school to house is measured in-

(a) Kilogram

(b) Kilometre

(c) Kiloliter

30. Rahul drinks half litre milk daily. How much milk could he drink in 3 days?

(a) one and a half litre

(b) 2 litres

(c) three litres

PART -III

हिन्दी

पूजा अपने दोस्त रवि के घर गयी। रवि बैठा-बैठा दूरदर्शन पर कार्यक्रम देख रहा था। पूजा ने रवि से कहा "पढ़ाई का समय है और तुम दूरदर्शन पर कार्यक्रम देख रहे हो।" रवि बोला "हमारे घर कोई भी पढ़ा-लिखा नहीं है, इसलिए मैं भी पढ़ कर क्या करूँगा?"

पूजा ने कहा "अगर तुम पढ़ोगे तो एक अच्छा नागरिक बन पाओगे।" यह बात रवि को अच्छी लगी और उसी दिन से उसने प्रण कर लिया, पढ़ाई के समय पढ़ाई करेगा और खेलने के समय खेलेगा। बाद में पढ़ लिख कर रवि एक अच्छे पद पर कार्य करने लगा।

ऊपर लिखे गद्यांश को पढ़कर सही उत्तर पर (✓) का निशान लगाओ।

31. खेलने के समय _____ करना चाहिए।

(क) खेलना

(ख) घूमना

(ग) पढ़ना

32. कार्य का समान अर्थ वाला शब्द है _____

(क) प्राण

(ख) काम

(ग) महत्व

33. घर का बहुवचन है-

(क) मकान

(ख) कमरा

(ग) घरों

नीचे लिखे शब्द का विलोम लिखें।

34. ऊँचा

(क) लंबा

(ख) चौड़ा

(ग) नीचा

35. दोस्त

(क) भाई

(ख) दुश्मन

(ग) मित्र

सही तुक वाले शब्द पर (✓) का निशान लगाओ।

36. पीढ़ी

(क) सीढ़ी

(ख) पीढ़ा

(ग) टिड्डा

नीचे लिखे रेखांकित शब्द का अर्थ बताओ

37. उत्तर भारत में मूसलाधार वर्षा हो रही है।

(क) धीरे-धीरे

(ख) बहुत तेज़

(ग) बूँदा-बाँदी

38. होली पर मोहन बाज़ार से _____ लाया।

- (क) पटाखे (ख) गुलाल (ग) सेवइयाँ

39. संजय उत्तर पुस्तिका में प्रश्नों _____ उत्तर लिख रहा है।

- (क) की (ख) को (ग) के

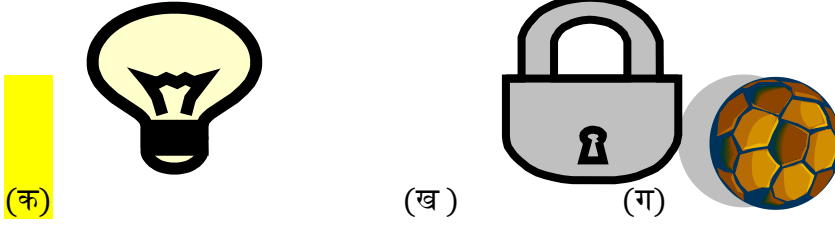
नीचे लिखे शब्दों में से सही शब्द पर (✓) का निशान लगाएँ।

40. (क) मेहनत (ख) महनत (ग) महनेत

41. (क) तसवीर (ख) तस्वीर (ग) तस्विर

42. (क) पिजड़ा (ख) पींजरा (ग) पिंजड़ा

43. निम्न में से कौन सी वस्तु काँच द्वारा बनी है?



44. सबसे तेज़ गति से चलने वाला साधन _____ है।



(क) रिक्शा (ख) साईकिल (ग) हवाई-जहाज़

निम्नलिखित शब्दों की समूह के लिए सही शब्द चुनकर (✓) का निशान लगाएँ।

45. भांगड़ा कथक कली भरत नाट्यम

- (क) नृत्य (ख) पोशाक (ग) भाषा

PART IV EVS

46. The time you eat lunch is-

- (a) 6:00 am (b) 12:30pm (c) 7:00 pm

47. The place where we go to play –

- (a) school (b) park (c) bus-stand

48. We get silk from-

- (a) **Sheep** (b) fish (c) silk-worm

49. Fruit- chat is made up of-

- (a) Rice, beans, peas (b) bread, lemon, salt (c) **carrot, apples, grapes**

50. After using the tap we should _____ the tap -

- (a) **Close** (b) keep running (c) break

51. Mew- mew is the sound of –

- (a) goat (b) **cat** (c) cow

52. _____ is an animal that lives both on land and water-

- (a) **crocodile** (b) fish (c) lion

53. Banana plant has _____ leaves –

- (a) round (b) zigzag (c) **long**

54. Which of the following city is not in India?

- (a) Kolkata (b) **New York** (c) New Delhi

55. Chakra in our National flag is known as-

- (a) Krishna Chakra (b) Bheem Chakra (c) **Ashok Chakra**

56. We can go into the space by-

- (a) train (b) airplane (c) **spaceship**

57. _____ is a healthy food item-

- (a) cold drinks (b) **salad** (c) chips

58. Which is the fastest mode of communication?

- (a) telephone (b) post card (c) **e-mail**

59. I stitch clothes for people-, I am a _____

- (a) doctor (b) teacher (c) **tailor**

60. Kho-kho has _____ players in each team-

- (a) 7 players (b) **9 players** (c) 11 players
