

KENDRIYA VIDYALAYA SANGATHAN AHMEDABAD REGION

STUDENT'S LEARNING ACHEIVMENT AND TEACHER'S EFFECTIVENESS TEST (2017-18)

TIME : 90 Minutes.

CLASS: II

MARKS: 50

Name: - _____

Roll No. _____

INSTRUCTIONS:

- ❖ There are 50 multiple-choice questions and all questions are compulsory.
- ❖ Each question carries one mark.
- ❖ Paper consist 15 questions each of English, Hindi and 20 questions of Maths.
- ❖ Each question has 04 options mark ✓ tick on correct answer.
- ❖ Submit your question cum answer booklet to the invigilator after exam is over.

English

1. The rhyming word of 'king' is ____
a) **Ring** b) Town c) Say d) Moon
2. Which is the vowel in the word 'dress' ?
a) a b) **e** c) i d) o
3. Which oil did Granny put in the hair?
a) Rice oil b) **Coconut oil** c) Mustard oil d) Sunflower oil
4. Who lived in the cottage in the story, 'Curlylocks and the Three Bears' ?
a) **Bears** b) Tigers c) Lions d) Elephants
5. Where did the Music man come from, in the poem 'I am the Music man' ?
a) **Far away** b) Nearby c) Mumbai d) School
6. Granny, granny , please comb my ____
a) Head b) **Hair** c) Dress d) Shoes
7. What fell on Funny Bunny one day?
a) Ball b) **Apple** c) Nut d) Stone
8. What is the opposite of 'big' ?
a) Go b) Stop c) **Small** d) Fat
9. Mr.Nobody was a funny ____ man.
a) Big b) **Little** c) Small d) Tall

10. What did Curlylocks eat ?

- a) **Porridge** b) Rice c) Roti d) Bread

11. Who said, " Make this line shorter" ?

- a) Birbal b) Music man c) Bear d) **Akbar**

12. A farmer works in the ___

- a) **Field** b) Film c) Ship d) Plane

13. What was the name of the donkey in the story 'The Mumbai Musicians' ?

- a) **Goopu** b) Doopu c) Furry d) Bunny

14. What is the opposite gender of mother?

- a) Uncle b) Grandfather c) Grandmother d) **Father**

15. Which is the correct spelling?

- a) Marygold b) **Marigold** c) Merigold d) Merrigold

HINDI

16. तितली कली के पास कब गई थी?

- (क) सुबह (ख) दोपहर (ग) शाम (घ) रात

17. मैं काली हूँ मीठा गाना गाती हूँ।

- (क) **कोयल** (ख) कौआ (ग) कबूतर (घ) मैना

18. सारंगी की आवाज़ कैसी थी?

- (क) **मीठी** (ख) तीखी (ग) कर्कश (घ) ऊँची

19. खाना पकाने वाले को क्या कहते हैं ?

- (क) कुम्हार (ख) **रसोईया** (ग) डाक्टर (घ) किसान

20. बस के नीचे कौन बैठा था ?

- (क) **बाघ** (ख) बिल्ली (ग) कुत्ता (घ) गाय

21. बुलबुल एक बार में कितने अंडे देती है ?

- (क) दो या तीन (ख) छ (ग) सात (घ) पांच

22. हमारा राष्ट्रीय पक्षी कौन-सा है?

- (क) **मोर** (ख) कोयल (ग) चिड़िया (घ) तोता

23. सारंगी क्या होती है?

- (क) **संगीत का साधन** (ख) खेल का साधन (ग) खाने की चीज़ (घ) यातायात का साधन

24. टेसू राजा ने किस फल की बात की है?

- (क) **अनार** (ख) आम (ग) केला (घ) सेव

25. हमारा राष्ट्रीय पशु कौन-सा है?

(क) बाघ (ख) शेर (ग) चीता (घ) हाथी

26. नाम वाले शब्द पर सही का निशान लगाओ -

(क) रमा (ख) दौड़ना (ग) खाना (घ) सोना

27. सही शब्द पर सही का निशान लगाओ -

(क) फुरसत (ख) फुरशद (ग) फुरशत (घ) फोर्शत

28. 'दिन' शब्द का तुकात्मक शब्द ढूँढो -

(क) राजा (ख) बीन (ग) दान (घ) आज

29. एक्की के कितने बाल थे?


(क) एक (ख) दो (ग) तीन (घ) चार

30. दोक्की का स्वभाव कैसा था ?

(क) घमंडी (ख) आलसी (ग) अच्छा (घ) खुशमिजाज


Mathematics

31. Identify the given shape:



a) Circle (b) Cone (c) Square (d) Rectangle

32. How many leaves are there on the branches?



(a) Five (b) Seven (c) Fourteen (d) Eight

33. Which number comes between 48 and 50?

a) 15 (b) 20 (c) 59 (d) 49

34. Which number is missing in this number series?

41, 42, 44, 45, 46, 47, 48, 49, 50

a) 53 (b) 43 (c) 23 (d) 33

35. Which day comes after Saturday?

- a) Monday (b) Tuesday (c) **Sunday** (d) Friday

36. How many days are there in a Week ?

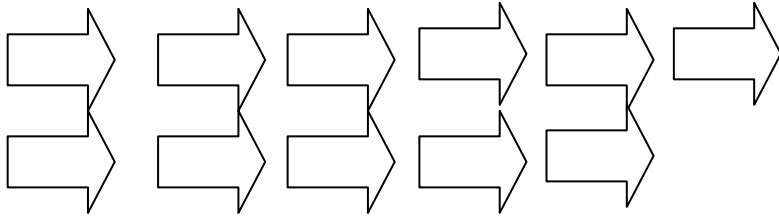
- a) 5 (b) **7** (c) 10 (d) 8

37. Solve and tick correct option

Add $7 + 8 = \text{-----}$

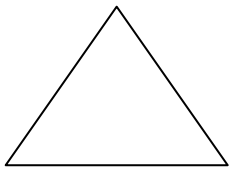
- a) **15** (b) 12 (c) 11 (d) 10

38. count the figure and tick the correct answer



- a) **11** (b) 13 (c) 9 (d) 10

39. How many sides are there in a triangle?



- a) 4 (b) **3** (c) 5 (d) 2

40. How many standing lines are there in the given word?

I N D I A

- a) 6 (b) **8** (c) 5 (d) 4

41. Tick the correct symbol in following puzzle

$$2 \square 4 = 6$$

- (a) **+** (b) - (c) \times (d) \div

42. Tick the correct symbol in the following puzzle

$$8 \quad \square \quad 5 = 3$$

- (a) + (b) - (c) × (d) ÷

43. Anil purchased Pencils for rupees **12**, Notebook for rupees **20** and Pen for rupees **30**. How many total rupees he gave to the shopkeeper?

- a) **62** (b) 52 (c) 61 (d) 50

44. Fill in the blank.

100 rupees = ----- 50 rupees notes

- a) 4 (b) 3 (c) **2** (d) 1

45. Fill in the blank.

$$5 \times 3 = \text{-----}$$

- a) **15** (b) 10 (c) 20 (d) 13

46. Split the 48 into Tens and Ones.

- (a) 80+4 (b) 40+8 (c) 8+4 (d) **4+8**

47. Vani made 30 paper boats. 10 boats sank. How many boats were left?

- (a) 40 (b) 30 (c) **20** (d) 10

48. Complete the card

	3	0
+	2	0
Ans		

- a) 20 (b) **50** (c) 30 (d) 10

49. Complete the card

	7	5
-	2	5
Ans		

- a) 30 (b) 25 (c) **50** (d) 20

50. Write the total sum of money



a) 12

(b) **22**

(c) 32

(d) 42

ROUGH