

Duration : 1 Hr

Date : _____

No. of Questions : 50


Max. Marks: _____

Class : 1

Section A- Mathematics

1. Which abacus shows 56?

(_____ 56 _____)



a.



b.



✓ c.



d.

2. Who has maximum apples?

(किसके पास सबसे ज्यादा सेब हैं ?)



a. Ritu

a. रितु



✓ b. Suman

b. सुमन



c. Lata

c. लता



d. Soni

d. सोनी

3. Rahul has 7 marbles and Sonu has 8 marbles.

Total numbers of marbles they have altogether are _____

(राहुल के पास 7 कंचे हैं और सोनू के पास 8 कंचे हैं.)

दोनों के पास कुल कितने कंचे हैं _____ ?)

a. 19

c. 12

✓ b. 15

d. 14

4. A frog jumps 3 steps from stone 1, and then 2 steps. Which stone will it reach?

(एक मेंढक पहले पत्थर से 3 कदम (Step) कूदता है और उसके बाद फिर 2 कदम (Step) कूदता है, इस तरह से वो कौन से पत्थर पर पहुंचेगा?)

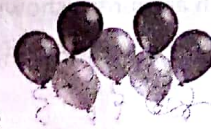

 a. 5th stone

 ✓ b. 6th stone

 c. 7th stone

 d. 3rd stone

5. There are _____ balloons. _____ burst. How many balloons are left?



(इतने

गुब्बारों में से

इतने

गुब्बारे फूट गए, अब कितने गुब्बारे बचे हैं ?)

a. 3

b. 2

✓ c. 4

d. 9

6. Who is taller than Sunita and shorter than Rupa?



Rajni

रजनी

Gopi

गोपी

Rupa

रूपा

Sunita

सुनीता

Rita

रीता

Mona

मोना

a. Rita

c. Gopi

✓ b. Rajni

d. Mona

(निम्न में से, सुनीता से बड़ी और रूपा से छोटी कौन है ?)

- a. रीता b. रजनी
c. गोपी d. मोना

7. Which of the following month is the eighth month of the year ?

- a. August b. September
c. July d. October

(निम्न में से कौन महिना साल का आठवा महिना है ?)

- a. अगस्त b. सितम्बर
c. जुलाई d. ओक्टूबर

8. How much amount is shown here?

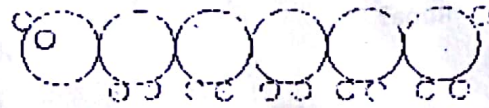
(नीचे कुल कितने रूपये दिख रहे हैं ?)



- a. 70 b. 50
c. 30 d. 80

9. How many circles are present in the given figure?

(चित्र में कुल कितने गोले दिख रहे हैं ?)



- a. 18 b. 19
c. 20 d. 21

10. _____ looks like a cylinder

(इसमें से _____ बेलनाकार दिख रहा है)



a

b



c



d

11. Ram had three pencils. Mohan gave him two more. How many pencils does Ram have now?

(राम के पास तीन कलम थे, मोहन ने उसे दो और दे दी अब राम के पास कुल कितनी कलमें हैं ?)

- a. 5 b. 6
c. 7 d. 4

12. Shape of your class room is

- a. Cuboid b. Sphere
c. Cylinder d. Hexagon

आपकी कक्षा किस आकार की है ? □

- a. घनाभ b. गोलाकार
c. बेलनाकार d. षट्कोण

13. $15 + 4 + 2 =$ _____

- a. 20 b. 19
 c. 21 d. 22

14. Height of a Penstand when measured with a scale will be

स्केल से नापे जाने पर लेखनीधर पेन स्टैंड की

उचाई लगभग □ □ होती है □

- a. 1 m b. 1 cm
 c. 10 cm d. 10 m

15. If your 2 years old brother is 4 years younger than you, what is your age?

(यदि आपका 2 साल का भाई आपसे 4 साल छोटा है, तो आपकी आयु क्या है?)

- a. 2 years b. 4 years
 c. 6 years d. 10 years

Section B- English

16. Correctly punctuate the sentence **my name is rohan bisht**
- My name is rohan bisht.
 - My name is Rohan bisht.
 - My name is Rohan Bisht.
 - My Name is Rohan bisht.
17. Complete the sentence: **one deer many _____**
- Deers
 - Deers
 - Deeres
 - Deeris
18. If boy is to girl and man is to woman, then dog is to _____
- Doggy
 - Puppy
 - Bitch
 - Dog
19. _____ comes after Wednesday and before Friday.
- Thirsdlay
 - Thursday
 - Thrusday
 - Tharsday
20. The box is _____ the table
- On
 - Under
 - In
 - Above
21. There is a hole _____ the wall
- In
 - On
 - Into
 - At
22. There are five _____ on the tree
- Monkey
 - Monkeys
 - Monkies
 - Monkeys
23. Change the gender of goose
- Gooseling
 - Gander
 - Goosey
 - Geese
24. Find the noun in sentence **May I come in Sir?**
- May
 - I

c. Come d. Sir

25. Find the adjective in the sentence
Yesterday, I had a bad dream

a. Bad b. Dream
c. Yesterday d. All of the above

Section C- Science

26. Coriander is a _____
- Herb
 - Shrub
 - Tree
 - Creeper
- (धनिया एक _____ है)
- जड़ी बूटी
 - झाड़ी
 - पेड़
 - लता

27. We eat seeds of _____
हम _____ के बीज खाते हैं



a. Banana
a. केला



b. Coconut
b. नारियल



c. Apple
c. सेव



d. Corn
d. मक्का

28. Which of the following animals eat both plants and other animals?

(निम्न में से कौन सा ऐसा जानवर है जो पौधा और जानवर दोनों खाता है ?)



a. Cow



b. Bear

a. गाय



c. Tiger
c.

b. भालू



d. Lizard
d. छिपकली

29. Which of the following protect us from sun
(निम्न में से कौन सा हमें धूप से बचाता है)



a. Raincoat
a. रेनकोट



b. Gumboots
b. गम बूट



c. Muffler
c. मफलर



d. Goggles
d. चश्मा

30. Which of the following you should do
once a week
(निम्न में से कौन सा हफ्ते में एकबार करना चाहिए)



a. Bathing
a. स्नान



b. Brushing
b. ब्रश



c. Cutting nails
c. नाखून काटना



d. fighting
d. लड़ाई

31. We can save water by
()

?)



a.



b.



c.



d.

32. Riya lives in Delhi. She noted that different
festivals are celebrated in different seasons
Where is she wrong?

Festival	Season
a. Holi	Spring
b. Christmas	Winter
c. Rakhi	Winter
d. Lohri	Winter

रिया दिल्ली में रहती है, उसके हिसाब से निम्न
त्यौहार आगे लिखे हुए मौसम में मनाया जाता है,
रिया ने क्या गलती है ?

Festival	Season
a. होली	वसंत
b. क्रिसमस	शरद
c. राखी	शरद
D. लोहड़ी	शरद

33.  and  are filled with

- a. Air
c. Oil
b. Water
d. Sand



और




है?

- a. हवा
c. तेल
b. पानी
d. रेत

34. In which sky you would most likely see a rainbow?


(किस तरह के आकाश में इंद्रधनुष दिखने के आसार ज्यादा होते हैं ?)



a.



b.



c.



d.

35. Which sense organ is child using?

- a. Eyes
b. Nose
 c. Tongue
d. Skin



(बच्चा निम्न में से कौन सी ज्ञानेन्द्री का प्रयोग कर रहा है?)

- a. आंखें
b. नाक
c. जीभ
d. त्वचा

36. Identify the noun which describes the picture



- a. Cat
b. Monkey
c. Dog
 d. Goat

(चित्र कौनसा संज्ञा शब्द दर्शा रहा है)

- a. बिल्ली
b. बंदर
c. कुत्ता
d. बकरी

37. Select the action word that describes the given picture



- a. Cry
b. Climb
c. Cook
d. Eat

(चित्र कौनसा वर्णन शब्द (क्रिया) दर्शा रहा है)

- a. रोना
b. चढ़ना
c. पकाना
d. खाना

38. Select the describing word for the picture shown



- a. Week
 c. Angry
b. Old
d. Beautiful

(चित्र कौनसा वर्णन शब्द (क्रिया) दर्शा रहा है)

- a. कमजोर
b. बूढ़ा
c. क्रोध
d. सुंदरता

39. Find the colour of leaves in jumbled words

- a. LUBE
 b. NEREG
c. DER
d. NIKP

40. Identify the picture of the animal



- a. Scorpion
b. Spider
c. Ant
d. Crab

(निम्न चित्र किस जानवर का है?)

- a. बिच्छू
b. मकड़ी
c. चींटी
d. केकड़ा

Section D- General Knowledge

41. Who is the prime minister of India
 a. Arvind Kejariwal
 b. Narendra Modi
 c. Nitish Yadav
 d. Donald Trump
 (भारत के प्रधानमंत्री कौन हैं ?)
 a. अरविन्द केजरीवाल
 b. नरेन्द्र मोदी
 c. नितीश कुमार
 d. डोनाल्ड ट्रंप
42. The largest living animal on Earth is
 a. Blue Whale b. Elephant
 c. Dinosaur d. Rhinoceros
 (धरती पर सबसे बड़ा जीवित जंतु कौन है ?)
 a. नीली व्हेल b. हाथी
 c. डायनासोर d. गैंडा
43. _____ is not our neighbouring country
 a. Pakistan b. Srilanka
 c. China d. Japan
 (_____ हमारा पड़ोसी देश नहीं है)
 a. पाकिस्तान b. श्रीलंका
 c. चीन d. जापान
44. Mango is a _____ fruit
 a. Summer b. Winter
 c. All time d. Spring
 (आम एक _____ का फल है)
 a. ग्रीष्म b. सर्दी
 c. हर मौसम d. वसंत
45. This is the flag of _____

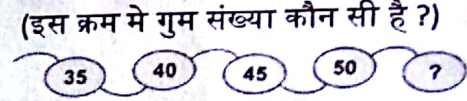


- a. England b. India
 c. Australia d. France
 (यह _____ देश के झंडे का कला सफेद चित्र है)
 a. इंग्लैण्ड b. भारत

- c. आस्ट्रेलिया d. फ्रांस


Section E- Logical Reasoning

46. Which is the missing number in the pattern?
 (इस क्रम में गुम संख्या कौन सी है ?)



- a. 55 b. 30
 c. 60 d. 65

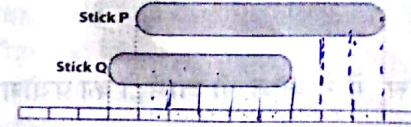
47. Which is the next figure?
 (अगली आकृति कौन सी होगी?)



- a. b. c. d.

48. The Stick Q is _____ units shorter than stick P
 (1 = 1 unit)

(डंडी Q, डंडी P से _____ भाग छोटी है) (1 = 1 भाग)



- a. 1 b. 2
 c. 3 d. 4

49. If tomorrow is Sunday, what was yesterday?

- a. Friday b. Saturday
 c. Monday d. Thursday

अगर आने वाला कल रविवार है तो बीता हुआ कल क्या था?

- a. शुक्रवार b. शनिवार
 c. सोमवार d. वृहस्पतिवार

50. If one chocolate = ₹ 3, then the cost of 5 chocolates is

(अगर एक चॉकलेट की कीमत = ₹ 3 है तो 5 चॉकलेट की कीमत क्या होगी)

- a. 5 b. 15
 c. 12 d. 18